

# Humuszkészítő mesterek

## FELADATOK

3-6. évfolyamosok számára



Készítették a Fővárosi Állat- és  
Növénykert  
Ismeretterjesztési és Oktatási Osztály  
munkatársai



## Keress válaszokat „A humuszkészítés mesterei” szövegben a kérdésekre!

1. Milyen vastagságú a talajréteg a Földön?
  - a. 3-5 m
  - b. 1,5-2 m
  - c. 10-15 m
2. Mennyi ebből a termékeny rész?
  - a. az egész
  - b. az alsó 20-50 cm
  - c. a felső 20-50 cm
3. Mennyi idő alatt képződik 1 cm talaj?
  - a. 200 év
  - b. 1 év
  - c. 1000 év
4. Kell-e vigyázni a talajra?
  - a. Igen, mert a talaj minden élet alapja a Földön.
  - b. Nem, mert megújuló erőforrás, és hamar újratermelődik.
  - c. Nem, mert a jövőben minden élelmiszert mesterséges úton fogunk előállítani




## Igazak vagy hamisak a következő állítások?

1. A növényi anyagok bontását alapvetően baktériumok és gombák végzik.
2. A földigiliszták elhalt állati maradványokból táplálkoznak.
3. Az ikerszelvényesek testét kemény kitinpáncél borítja.
4. Az ászkarákok a kifejezetten száraz, hűvös élőhelyeket kedvelik.
5. A rózsabogárlárva a kerti veteményesek leggyakoribb pusztítója.





Nevezd meg ezeket az állatokat! Fejtsd meg a keresztrejtvényt!





### Talajmatek

1 cm talaj 200 év alatt alakult ki.  
Másfél méteres talajvastagság  
kialakulásához mennyi idő kellhet?





# Mi való a komposztba? Kösd a komposztládához!





Keressd meg a tíz talajjal kapcsolatos szót a betűhálóban!

D D D T L L S B Q K A V I C S  
T B A R N A E R D Ö T A L A J  
K F N C Ú M B Ö C G S É É V Ü  
O W Ó Z J Y H O M O K S Z E M  
R M E Z A L A P K Ö Z E T Ö Ó  
H W S A Y B Ö Ö I O Ü N H G B  
A S W P O Ö Y M Y Í É O D V X  
D G A R K Ó Á Y P C K Ö Ú A Y  
É P Ö Ó Z Ü Q R G Z M P X K C  
K É Q Z E E E A I I N C P O X  
L B A Ó Ú K Y S Y T P Í Ó N Í  
A Ö Ö D K G A Z Z F I É V D D  
K Á É Á A Y Á G O A L V Ö Ü Z  
Ó H Q S Y Y F Y X H U M U S Z  
M Ö F Ö L D I G I L I S Z T A

